

## الأسئلة الاثرائية لدرس الثاني الوحدة الأولى (الأنشطة الاقتصادية)

1-عرفي الأنشطة الاقتصادية .

.....

2-اذكري أنواع الزراعة مع ذكر محصول لكل منهما

..... -1

مثل :..... و..... و.....

..... -2

مثل :..... و..... و.....

3-عدد مشاريع تنمية الثروة الحيوانية في قطر

..... -1

..... -2

4-بم تفسري تركز الزراعة في الروضات في وسط وشمال دولة قطر .

..... -1

..... -2

5-عدد المصانع التي تقع في منطقة مسيعيد الصناعية .

..... -1

..... -2



## 6- ما أهمية الأنشطة الاقتصادية .

- 1- .....
- 2- .....
- 3- .....

## 7- عرف الصناعة .

.....

## 8- عرف التجارة .

.....

## 9- عرف السياحة .

.....

## 10- عدد موانئ الصيد في دولة قطر .

- 1- .....
- 2- .....
- 3- .....

## 11- عدد المناطق الصناعية في دولة قطر .

- 1- .....
- 2- .....
- 3- .....

12- عدد أنواع السياحة مع ذكر مثال لكل منها .

1- ..... مثل.....

2- ..... مثل.....

3- ..... مثل.....

13- ضع علامة ( ✓ ) أو علامة ( ✗ ) أمام الجمل الآتية :-

- أ- تعد زيارة متحف قطر الوطني نوع من السياحة التسويقية . ( )  
ب- يعتبر محصول الفلفل احد محاصيل الزراعة المحمية . ( )  
ج- تربى الابقار بدولة قطر في مزرعة ام قرن . ( )  
د- يقع مصنع الاسمنت بدولة قطر بمدينة راس لفان . ( )  
هـ - تصدر دولة قطر النفط الى اليابان . ( )  
و - اكثر أنواع الحيوانات التي نربى بدولة قطر الأغنام ( )

14-- اختر الإجابة الصحيحة بوضع علامة X في المربع المقابل:-

أي من التي يعد ممن محاصيل الزراعة المحمية :

البصل

البطاطا

الفلفل

الاعلاف



(تحويل المواد الخام الى منتجات اكثر نفعا للإنسان ) يقصد بالتعريف السابق :

ب

السياحة

أ

التعدين

ب

الصناعة

ج

التجارة

د

يقع مصنع اسالة الغاز الطبيعي بدولة قطر في مدينة :

ج

الدوحة

أ

راس لفان

ب

ام باب

ج

مسيعيد

د

اي من الاتي يعد من موانئ الصيد بدولة قطر :

د

الوكرة

أ

الريان

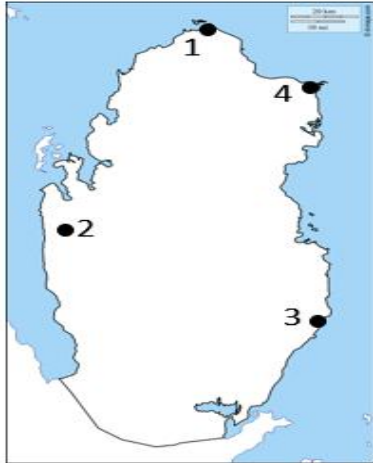
ب

الشحانية

ج

الكرعانة

د



ه تحمل مدينة راس لفان على الخريطة المقابلة رقم :

1

أ

2

ب

3

ج

4

د

و تعد زيارة قلعة الزبارة من أنواع السياحة :

الثقافية

أ

الترفيهية

ب

التسويقية

ج

العلاجية

د

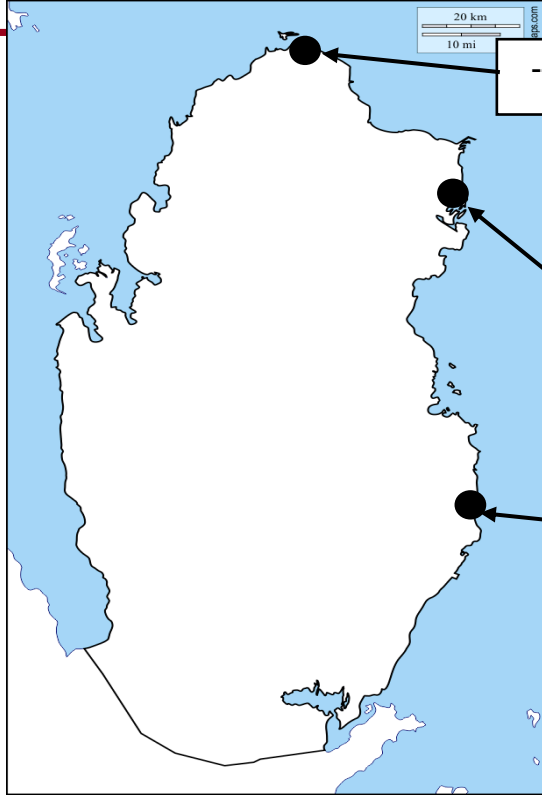
صلي بين العمود 1 وما يناسبها من ب

ب	
الذخيرة	
ام قرن	
مسيعيد	
البطاطا	
الغاز الطبيعي	
ام باب	

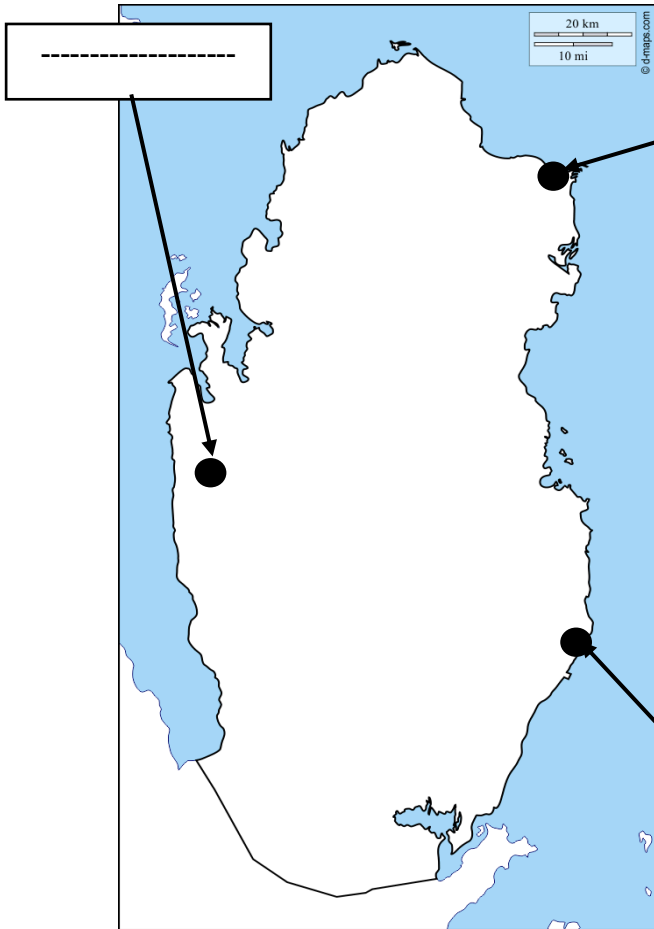
أ
1- يقع مصنع الحديد والصلب
2- من موانى صيد الأسماك بدولة قطر ميناء
3- تربي الدواجن بدولة قطري مزرعة
4- تصدر دولة قطر الى اليابان
5- من محاصيل الزراعة المكشوفة
6- يقع مصنع الاسمنت في

قسم الدراسات الاجتماعية (الصف الرابع)

مدرسة الخور الابتدائية للبنات



حددي على الخريطة الاتي :  
موانى الصيد في دولة قطر  
( الذخيرة - الوكرة - الرويس )



مناطق الصناعة في قطر  
ام باب - راس لفان - مسيعيد



وزعي المصانع التالية في أماكنها الصحيحة

اسالة الغاز

الاسمنت

الحديد والصلب

